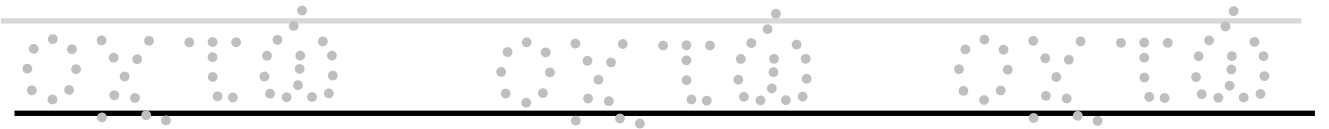
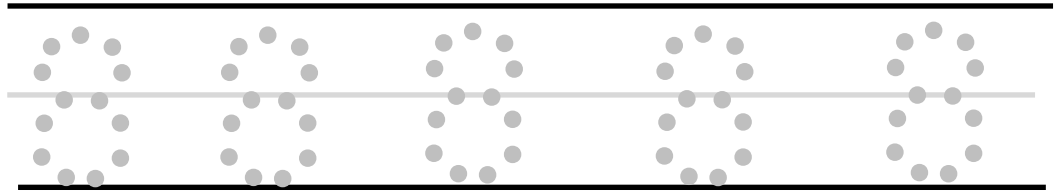




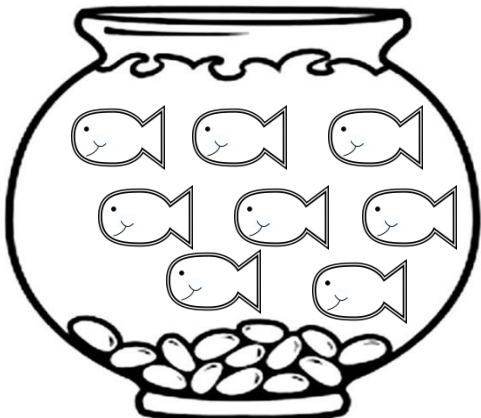
ΔΗΜΟΤΙΚΟ ΣΧΟΛΕΙΟ

Όνομα: _____ Τάξη: _____

1. Γράφω:



2. Βάζω σε κύκλο τις ομάδες που έχουν οχτώ
αντικείμενα.



Πόσες καρδούγες υπάρχουν σε κάθε κουτάκι;

